

**ВСЕРОССИЙСКАЯ ОЛИМПИАДА ШКОЛЬНИКОВ
ПО ОБЖ 2020–2021 уч. г. ШКОЛЬНЫЙ ЭТАП
5–6 классы**

Тестовые задания

Определите один правильный ответ

За правильный ответ начисляется 4 балла

- 4 1 **Мигание красных наддверных огней поезда метро означает**
① «посадка запрещена»
2) «высадка запрещена»
3) «посадка разрешена»
4) «высадка разрешена»
- 4 2 **Минимальная безопасная толщина льда при переходе через водоём одного человека должна составлять не менее**
1) 12 см
② 7 см
3) 5 см
4) 15 см
- 4 3 **Если Вы встанете лицом к Полярной звезде, то справа будет направление на**
1) запад
② восток
3) юг
4) север
- 4 4 **День пожарной охраны России отмечается**
1) 27 декабря
② 30 апреля
3) 4 октября
4) 1 марта
- 4 5 **Дезинсекция представляет собой**
1) обезвреживание (нейтрализация, разбавление) или удаление опасных химических веществ с поверхностей
2) удаление (снижение) радиоактивного загрязнения поверхностей
3) удаление (снижение) бактериального загрязнения поверхностей
④ удаление членистоногих с поверхностей
- 6 **Верны ли утверждения?**
Газопылезащитный респиратор предназначен для защиты органов дыхания от
А. радиоактивных аэрозолей
Б. микробиологических аэрозолей, передающихся воздушно-капельным путём при эпидемиях и пандемиях
1) верно только А
② верно только Б
3) верны оба суждения
4) оба суждения неверны

- 4 7 Если Вы обнаружили бесхозный предмет в вагоне поезда метро, то необходимо незамедлительно связаться с
- 1) полицейским
 - ☒ 2) машинистом
 - 3) дежурным по станции
 - 4) сотрудником МЧС
- 4 8 Верны ли следующие суждения?
Школьник правильно сидит за рабочим столом, если
- А. он сидит глубоко на стуле, ровно держит корпус и голову, ступни опираются на пол, угол сгибания в коленных и голеностопных суставах составляет около 90°
- Б. расстояние от его глаз до поверхности стола равняется длине предплечья от локтя до конца пальцев
- 1) верно только А
 - 2) верно только Б
 - ☒ 3) верны оба суждения
 - 4) оба суждения неверны
- 4 9 Верны ли следующие суждения?
Кровоостанавливающий жгут наложен правильно, если ниже места наложения жгута
- А. пульс отсутствует
- Б. конечность бледная
- 1) верно только А
 - 2) верно только Б
 - ☒ 3) верны оба суждения
 - 4) оба суждения неверны
- 10 Верны ли следующие суждения?
Бинтовая повязка накладывается на конечности, как правило,
- А. слева направо (по отношению к бинтующему)
- Б. от периферии к центру
- ☒ 1) верно только А
 - 2) верно только Б
 - 3) верны оба суждения
 - 4) оба суждения неверны

Определите два правильных ответа

За каждый правильный ответ начисляется **4 балла**

- 4 1 **Какой сигнальный цвет и какую геометрическую форму имеют знаки пожарной безопасности?**
1) синий
2) оранжевый
3) квадрат
4) красный
5) круг
- 4 2 **Для тушения небольшого бытового возгорания можно воспользоваться**
1) поваренной солью
2) мукой
3) плотной синтетической тканью
4) стиральным порошком
5) какао-порошком
- 4 3 **Какие растения являются ядовитыми?**
1) актинидия острая
2) белокопытник широкий
3) анис
4) борщевик
5) вороний глаз
- 4 4 **К опасным геологическим явлениям и процессам относятся**
1) сель
2) обвал
3) лавовый поток
4) затор
5) цунами
- 4 5 **По каким номерам в Российской Федерации возможно вызвать экстренные службы с сотового телефона?**
1) 911
2) 112
3) 985
4) 413
5) 113
- 4 6 **К средствам индивидуальной защиты органов дыхания относятся**
1) камера защитная детская
2) щиток защитный лицевой
3) респиратор
4) скафандр
5) гидроизолирующий костюм




- 4 7 **День солидарности в борьбе с терроризмом стал памятной датой после событий, произошедших в школе № 1 города Беслана**
- 1) 1–3 сентября
 - 2) 2004 года
 - 3) 23–26 октября
 - 4) 14–19 июня
 - 5) 1995 года
- 4 8 **Какие действия запрещены при оказании первой помощи пострадавшему с термическим ожогом при наличии целых и вскрывшихся пузырей?**
- 1) вскрывать пузыри
 - 2) накладывать нетугую повязку
 - 3) смазывать ожоговую рану маслами, жирами
 - 4) прикладывать поверх повязки холод
 - 5) поить пострадавшего
- 4 9 **Какие признаки характерны для ушиба конечности?**
- 1) отёк
 - 2) деформация
 - 3) кровоизлияние
 - 4) кровотечение наружное
 - 5) костный хруст
- 4 10 **Как правильно проверить наличие сознания у пострадавшего?**
- 1) слегка похлопать по щекам
 - 2) обратиться с вопросом, например «что с Вами?»
 - 3) аккуратно потрясти за плечи
 - 4) надавить на точку, находящуюся между носом и верхней губой
 - 5) растереть мочки ушей

Максимум за тестовые задания – 120 баллов.

Теоретические задания

Задание 1






Установите соответствие между изображением дорожного знака и его наименованием.

	«Опасный поворот»
	«Выброс гравия»
	«Скользкая дорога»
	«Опасные повороты»
	«Пересечение с велосипедной дорожкой»
	«Прочие опасности»
	«Жилая зона»
	«Начало населённого пункта»
	«Пешеходная дорожка»
	«Пешеходный переход»

205

Задание 2






Каждый визуальный сигнал «поверхность – воздух», применяемый при поисково-спасательных операциях, имеет определённое значение. Установите соответствие между изображением сигнала и его значением.

	«Нет, или отрицательно»	4
	«Ничего не обнаружено, продолжаем поиски»	
	«Неспособны двигаться, требуется медицинская помощь»	4
	«Двигаемся в этом направлении»	
	«Получены сведения, что воздушное судно находится в этом направлении»	
	«Требуется помощь»	
	«Требуется оружие и боеприпасы»	4

12 5.

Задание 3

Установите соответствие между изображением топографического знака и его наименованием.

	Редколесье
	Овраг
	Кустарники
	Луг
	Озеро. Проходимое болото

Handwritten connections (blue arrows) show the following matches:

- Topographic sign 1 (Lake/Passable swamp) connects to "Озеро. Проходимое болото".
- Topographic sign 2 (Meadow) connects to "Луг".
- Topographic sign 3 (Scrubland) connects to "Кустарники".
- Topographic sign 4 (Meadow) connects to "Луг".
- Topographic sign 5 (Lake/Passable swamp) connects to "Озеро. Проходимое болото".

205.

Задание 4

При оказании первой помощи можно использовать аптечку первой помощи (автомобильную).

Вариант 1. Укажите какие средства или медицинские изделия входят в аптечку первой помощи (автомобильную).

Вариант 2. Укажите какие средства или медицинские изделия НЕ входят в аптечку первой помощи (автомобильную).

Средства или медицинские изделия		
1		Бриллиантовый зелёный, 1%-ный спиртовой раствор
2		Анальгин, таблетки
3		Перчатки медицинские нестерильные смотровые
4		Лейкопластырь рулонный
5		Устройство для проведения искусственного дыхания «Рот–устройство–рот»
6		Шина складная
7		Бинт марлевый медицинский стерильный 7 м x 14 см

Всероссийская олимпиада школьников по ОБЖ. 2020–2021 уч. г.
Школьный этап. 5–6 классы

8		Губка гемостатическая коллагеновая
9		Жгут кровоостанавливающий
10		Йод, 5%-ный спиртовой раствор

Вариант II - 1, 2, 6, 8, 10. Вариант I - 3, 4, 5, 7, 9.

Максимальная оценка за работу – 200 баллов.

208